

L'origine des règles

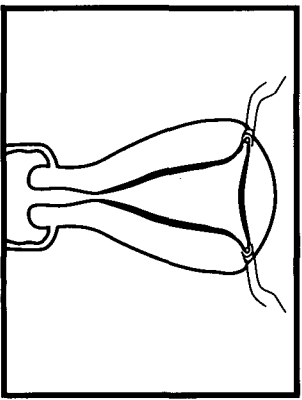
En respectant les étapes proposées, vous devez déterminer l'origine des règles.

1ère étape : Formulez une ou plusieurs hypothèses sur l'origine du sang des règles.

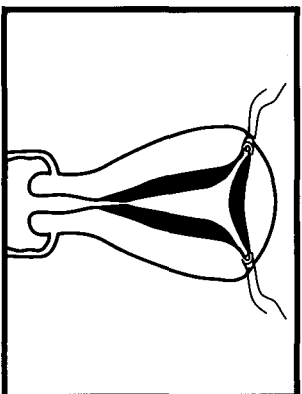
- -
 -
-
-
-

2ème étape : A l'aide du tableau de valeurs suivant, réalisez un graphique exprimant l'épaisseur de l'endomètre en fonction du temps.

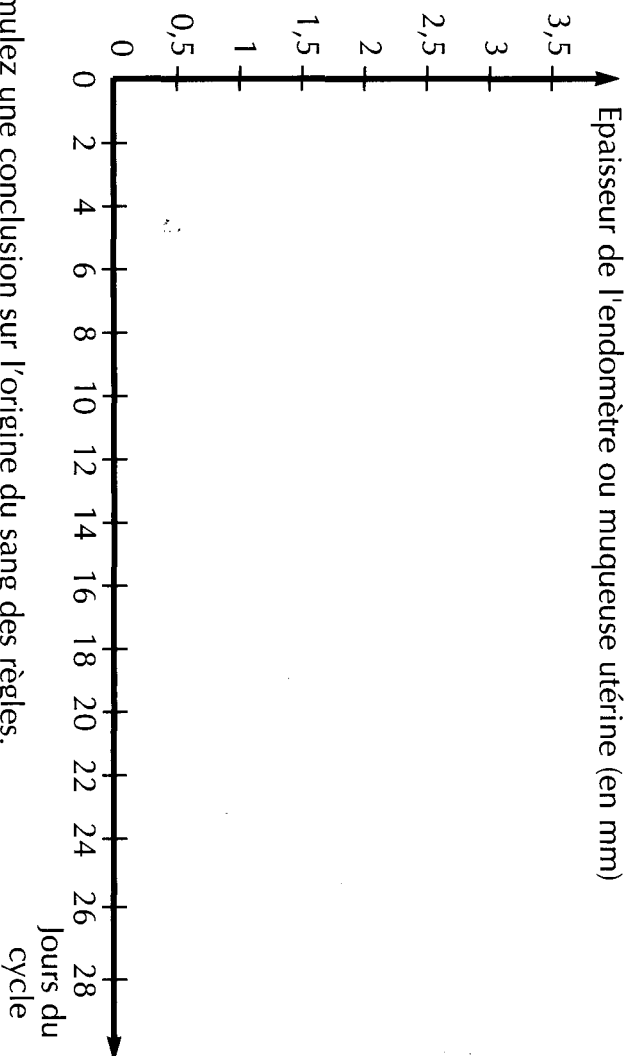
Jour du cycle	1	3	5	10	15	18	21	28
Epaisseur de l'endomètre	3	2	1	2	3	3	3,5	3



endomètre à la fin des règles



endomètre au 21ème jour



3ème étape : A l'aide de votre graphique et des 2 dessins ci-dessus, formulez une conclusion sur l'origine du sang des règles.

-
-